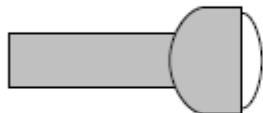


## Pourquoi il fait jour ? Pourquoi il fait nuit ? (partie 2)

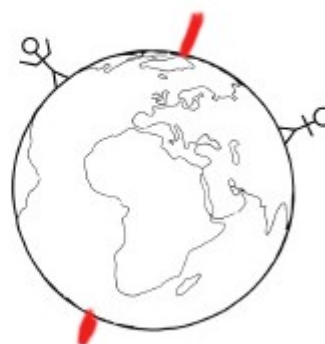

### A) La lampe et le globe terrestre

- 1) Colorie en jaune l'ampoule de la lampe de poche.
- 2) Colorie en jaune la partie du globe terrestre éclairée.
- 3) Colorie en bleu la partie du globe non éclairée.



### B) Le Soleil et la Terre

- 1) Colorie le Soleil en jaune
- 2) Colorie en jaune la partie de la Terre éclairée par le Soleil
- 3) Colorie en bleu la partie de la Terre non-éclairée par le Soleil.
- 4) Le bonhomme qui lève les bras est-il dans le jour ou dans la nuit ? .....
- 5) L'autre bonhomme est-il dans le jour ou dans la nuit ? .....



### C) Entoure le personnage qui a raison.

